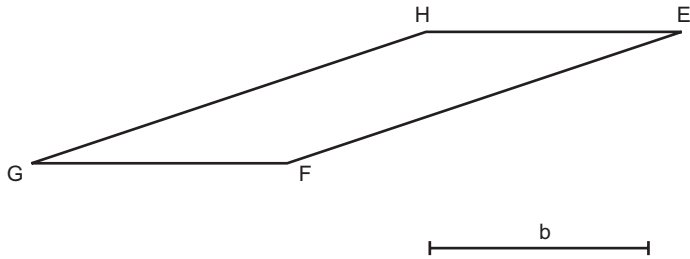




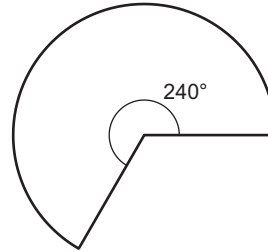
1ª QUESTÃO

Construa um triângulo **ABC** de lado **b**, equivalente ao paralelogramo **DEFG** dado:



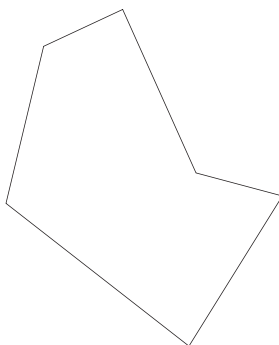
2ª QUESTÃO

Construa um trapézio retângulo **HIJK** aproximadamente equivalente à figura dada:



3ª QUESTÃO

Construa um quadrilátero convexo equivalente ao hexágono dado:



4ª QUESTÃO

Construa um heptágono concavo equivalente ao polígono dado:

